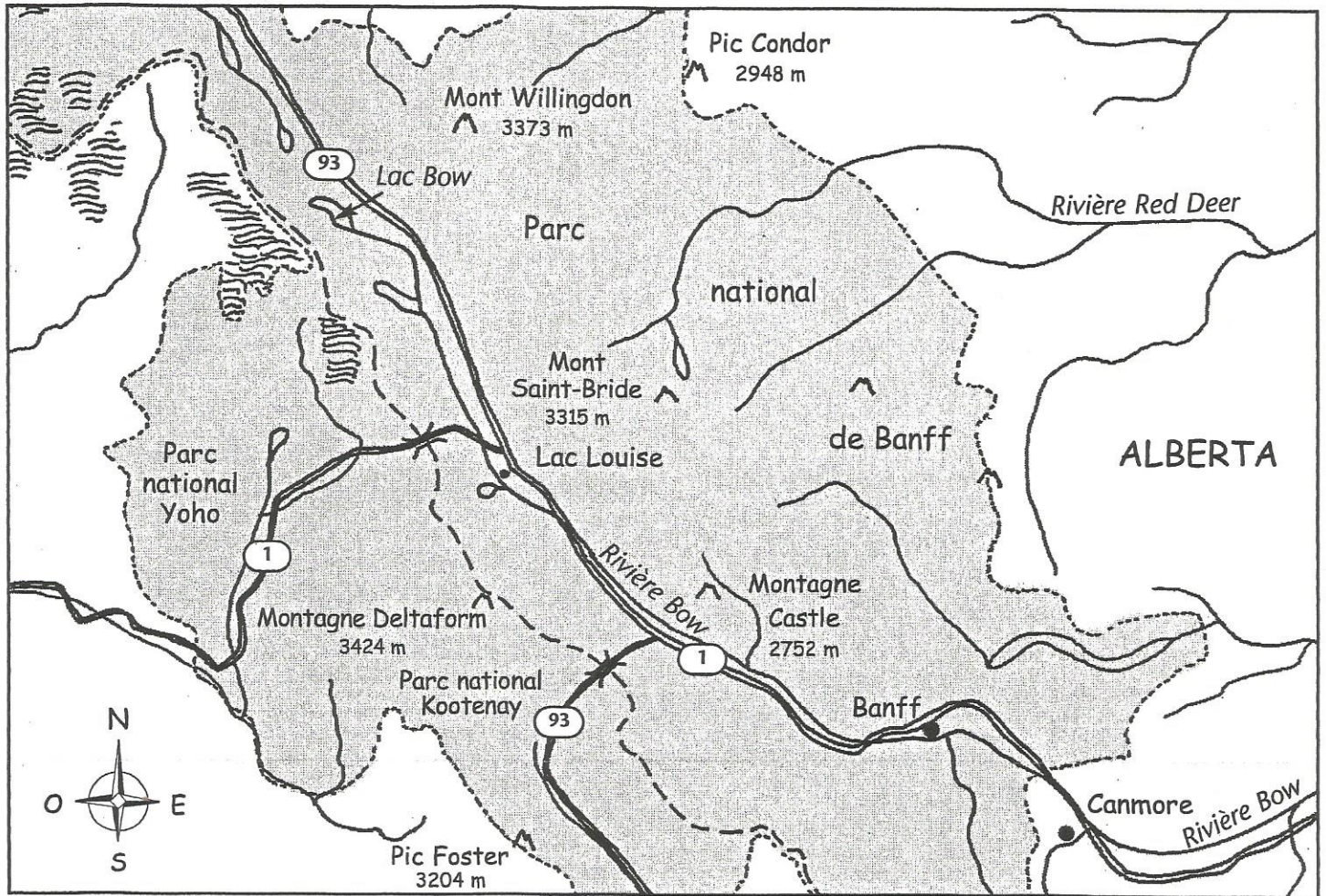










# Utiliser la légende d'une carte



## LÉGENDE

-  rivière
-  champ de glace
-  montagne élevée
-  autoroute
-  couloir de montagnes
-  village
-  frontière provinciale
-  frontière de parcs nationaux

1. La carte t'indique trois parc nationaux

- a) \_\_\_\_\_
- b) \_\_\_\_\_
- c) \_\_\_\_\_

2. Colorie le plus grand parc. C'est le \_\_\_\_\_.

3. La montagne la plus élevée sur la carte est \_\_\_\_\_.

4. La rivière la plus longue sur la carte commence au lac Bow.

Il s'agit de la rivière \_\_\_\_\_.

Cette rivière traverse deux villages :

\_\_\_\_\_ et \_\_\_\_\_.

5. Quels sont les trois symboles sur la carte qui t'indiquent que l'élévation est très haute?